










ПЕТИ РАЗРЕД

Задатак 1. Наставник је написао на табли неколико бројева. Кад се нађе пред таблом, Ана увек брише све парне бројеве, Боса све бројеве дељиве са 3, а Марта све бројеве дељиве са 5. Показало се да је Ана избрисала бројеве 32, 46 и 52, Боса бројеве 24, 33 и 45, а Марта бројеве 20, 25 и 35. Којим редом су девојчице прилазиле табли?

Задатак 2. Који број треба да стоји уместо знака питања?

	+		×		=	54
	×		+		=	50
	+		+		=	?